





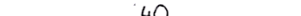





## Domaća zadaća – greške prilikom kotiranja

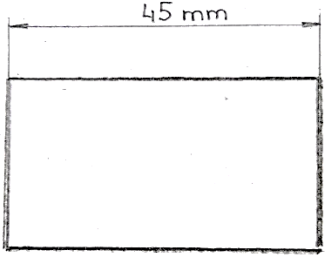
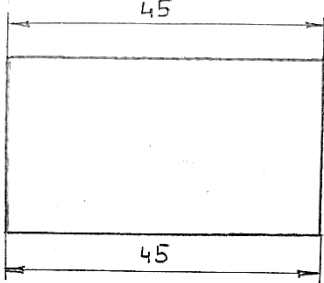
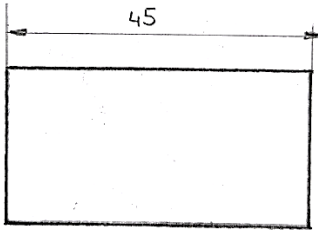

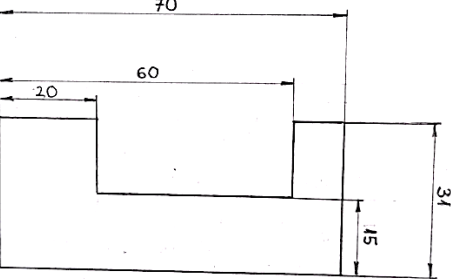
**Cilj domaće zadaće:** je naučiti izbjegavati najčešće pogreške koje učenici rade prilikom kotiranja tehničkog crteža. Neuredno kotiranje tj. prikazivanje dimenzija predmeta koji crtate može dovesti do zabuna i pogrešnih interpretacija radioničkih crteža, što može dovesti do netočne izrade strojnog ili konstrukcijskog dijela koji izrađujete.

**Zadatak 1.** Pronađi greške:

a)  b)  c)  d)  e) 	Koje su sve strelice pogrešno nacrtane (zaokruži) ?  a)      b)      c)      d)      e)
a)  b)  c)  d)  e) 	Koja je mjernica ispravno nacrtana (zaokruži) ?  a)      b)      c)      d)      e)  Objasni što nije ispravno na ostalim mjernicama !  _____ _____ _____ _____

Datum:	Pregledao:	Ocjena:	Obrazloženje:

**Zadatak 2.** Objasni zašto je prikazani crtež pogrešno kotiran.

	Crtež sa greškom	Objasni grešku
a)		Objasni pogrešku kod kotiranja na <b>slici a</b> ?
b)		Objasni pogrešku kod kotiranja na <b>slici b</b> ?
c)		Objasni pogrešku kod kotiranja na <b>slici c</b> ?
d)		Objasni pogrešku kod kotiranja na <b>slici d</b> ?
e)		Objasni pogrešku kod kotiranja na <b>slici e</b> ?

Datum:	Pregledao:	Ocjena:	Obrazloženje: