

Radni list: Dijelovi sustava centralnih grijanja - Crpke

QR kod za nastavnu jedinicu:

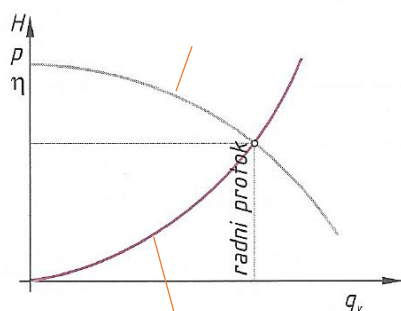


Poveznica na stranicu s nastavnom jedinicom:

<https://iki.webador.com/3-godina/3-2-instalacije-sustava-za-grijanje-i-regulaciju-grijanja/3-2-5-crpke>

1. Koja je uloga crpke ?
2. Navedite glavne karakteristike crpke.
3. Kakve crpke mogu biti ?
4. Navedite glavne značajke za odabir crpki.

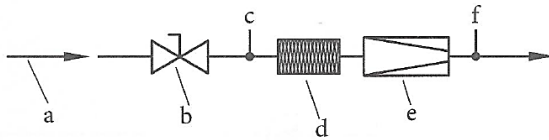
5. Dopunite i objasnite dijagram.



6. Koja je uloga crpke u sustavima CG i koja se crpka ugrađuje u navedene sustave?

7. Navedite osnovne značajke koje određuju odabir crpke.

8. Na shemi je prikazana plinska rampa. Definirajte pojedine dijelove.



a) _____ c) _____ e) _____

b) _____ d) _____

9. Koja je glavna uloga plamenika i kojih je kotlova plamenik sastavni dio?

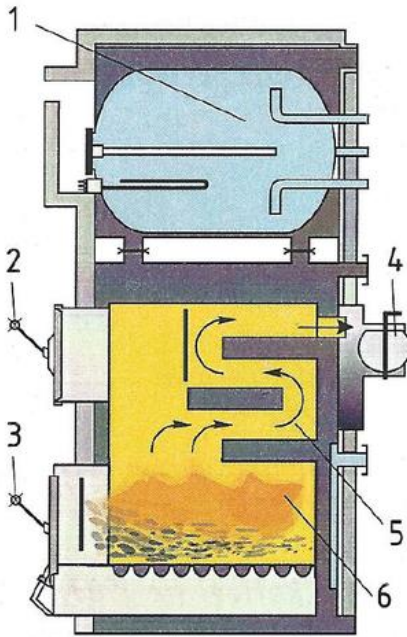
10. Podijelite kotlove prema:

a) snazi _____

b) izvedbi izmjene topline unutar kotla i konstrukcije _____

11. Što prikazuje slika, i koji su sastavni dijelovi ?

Slika prikazuje _____



1 _____

2 _____

3 _____

4 _____

5 _____

6 _____

12. Nabrojite dijelove sustava centralnog grijanja.
