

Kompleksna zadaća: 3.3. Instalacije za zagrijavanje pitke vode

Radni list: Uvod – Topla voda

QR kod za nastavnu jединicu:

Uvod – Topla voda:



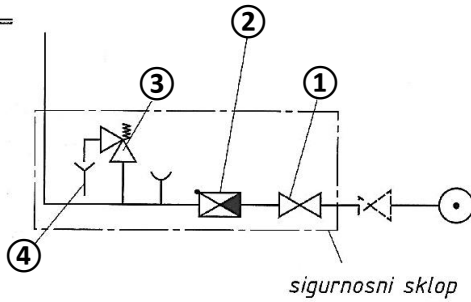
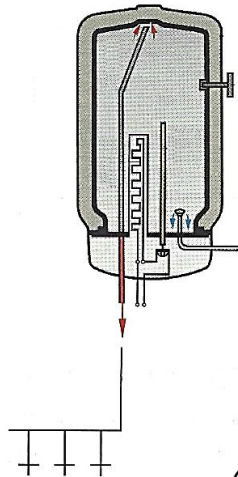
Poveznica na stranicu s nastavnom jединicom:

Uvod – Topla voda:

- <https://iki.webador.com/3-godina/3-3-instalacije-sustava-za-zagrijavanje-pitke-vode/3-3-1-uvod-topla-voda>

1. Što je potrošna topla voda ?
2. Za što se koristi potrošna topla voda ?
3. Na koji se način može proizvoditi potrošna topla voda ?
4. Što je posredni način zagrijavanja PTV – a ?
5. Što je neposredni način zagrijavanja PTV – a ?
6. Koji se medij koristi u posrednom načinu zagrijavanja potrošne tople vode ?
7. Na koji se način ostvaruje cirkulacija PTV – a ?

8. Koja se armatura ubraja u sigurnosni sklop sa slike ?



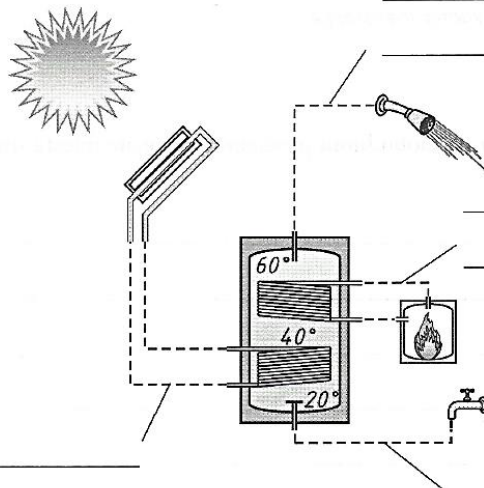
- ① _____
- ② _____
- ③ _____
- ④ _____

9. Navedi razliku između vode za piće i potrošne tople vode.

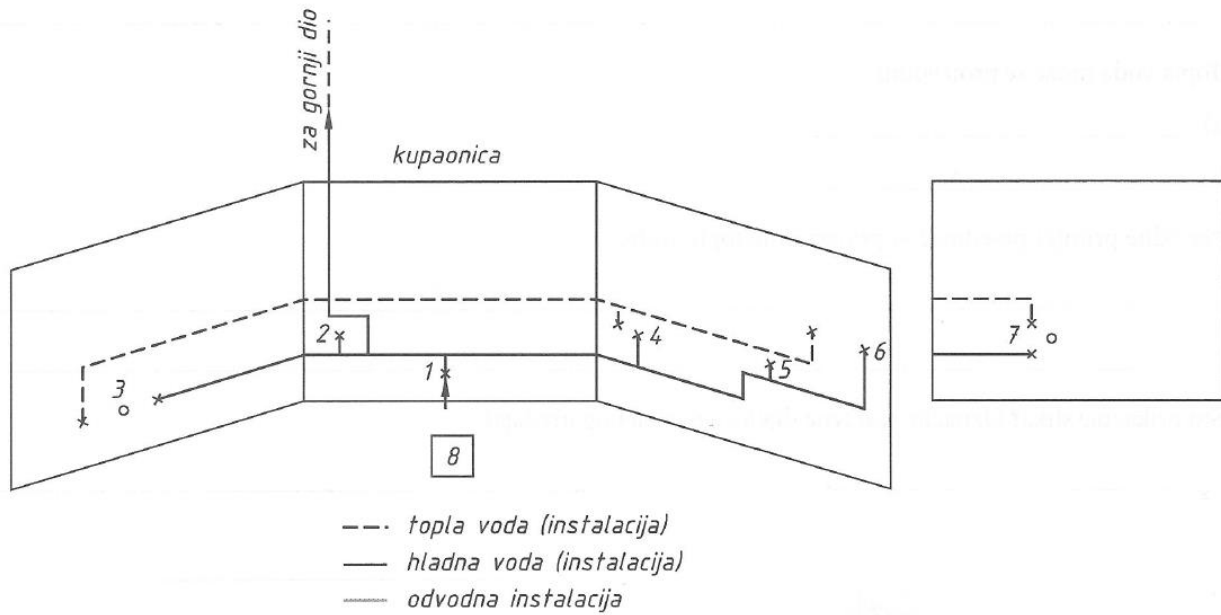
10. Topla voda PTV, može se proizvoditi:

- a) _____
- b) _____

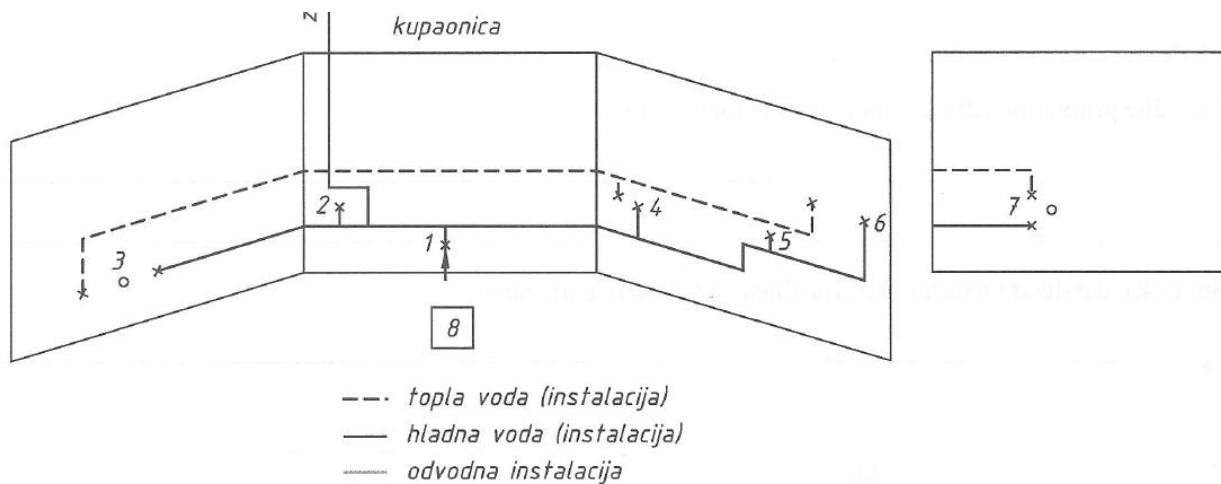
11. Što prikazuje slika? Označite sastavne dijelove navedenog uređaja?



12. Što je prikazano slikom?



13. Obzirom na priloženu sliku, slobodnom procjenom označite mjesta smještanja kupaoničkih elemenata.



- 1 _____
- 2 _____
- 3 _____
- 4 _____
- 5 _____
- 6 _____
- 7 _____
- 8 _____